

Constable (GD) in CAPFs, NIA, SSF and Rifleman (GD) in Assam Rifles Examination, 2018

Roll No.	www.exammix.com
Registration No.	Exammix
Name	
Exam Venue :	
Exam Time :	9:00 AM - 10:30 AM
Exam Date :	11/02/2019



Section : General Section

Q.1 उस विकल्प का चयन करें जो XY रेखा पर दर्पण रखे जाने पर दिए गए शब्द की दर्पण छवि से सर्वाधिक मेल खाता है।

X
ACE
Y

- Ans
- 1. EDA
 - 2. ACE
 - 3. ECA
 - 4. EDA

Question ID : 9895802421
Chosen Option : 1

Q.2 उस संख्या को पहचानें जो अन्य से भिन्न है।

- Ans
- 1. 196
 - 2. 121
 - 3. 256
 - 4. 252

Question ID : 9895802415
Chosen Option : 4

Q.3 उस विकल्प का चयन करें जो दी गई जोड़ी के अनुरूप है।

CD : HI

- Ans
- 1. AB : XY
 - 2. PQ : UV
 - 3. IJ : MN
 - 4. KL : NO

Question ID : 9895802403
Chosen Option : 2

Q.4 विकल्पों में दिए गए चार परिवर्तनों में से कौन सा निम्नलिखित समीकरण को सही करेगा?

$$30 \times 3 - 3 = 13$$

- Ans
- 1. \times , \div में बदला जाये; $-$, $+$ में बदला जाये
 - 2. \times और $-$ आपस में बदले जाये
 - 3. \times , $+$ में बदला जाये; $-$, \div में बदला जाये
 - 4. \times और $-$ आपस में बदले जाये; 3 और 30 आपस में बदले जाये

Question ID : 9895802416
Chosen Option : 1

Q.5 उस संख्या को पहचानें जो निम्न श्रृंखला से संबंधित नहीं है।

2, 9, 28, 64, 126, 217, 344, 513


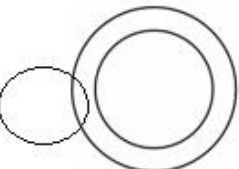
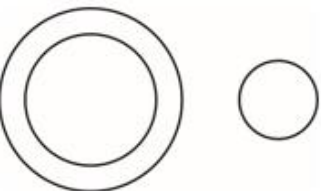
- Ans
- 1. 28
 - 2. 344
 - 3. 513
 - 4. 64

Question ID : 9895802413
Chosen Option : 1

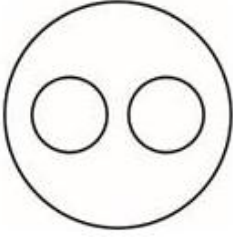
Q.6 उस वेन रेखाचित्र का चयन करें जो नीचे दिए गए तीन वर्गों के बीच के संबंध को बेहतर रूप से दर्शाता हो।

विद्यालय, अध्यापक, छात्र

Ans

- 1. 
- 2. 
- 3. 

✓ 4.



Question ID : 9895802423

Chosen Option : 4

Q.7 पांच छात्र एक कतार में खड़े हैं। सुमन प्रणव के बगल में खड़ी है, लेकिन वह दीना के बगल में नहीं खड़ी है। कुमार राजू के बगल में खड़ा है, जो सबसे बाईं ओर खड़ा है, और दीना कुमार के बगल में नहीं खड़ी है। बीच में कौन खड़ा है?

- Ans
- ✓ 1. सुमन
 - ✗ 2. दीना
 - ✗ 3. राजू
 - ✗ 4. कुमार

Question ID : 9895802407

Chosen Option : 3

Q.8 निम्नलिखित में से असंगत को पहचानें।

- Ans
- ✗ 1. नीचे
 - ✗ 2. आगे
 - ✗ 3. ऊपर
 - ✓ 4. बड़ा

Question ID : 9895802400

Chosen Option : 4

Q.9 एक साइक्लिंग प्रतियोगिता में पांच छात्रों ने हिस्सा लिया। रॉबर्ट, मोनिश से पहले लेकिन गुंजन के बाद में आया। अनिल सुनील से पहले लेकिन मोनिश से बाद में रह गया। प्रतियोगिता किसने जीती?

- Ans
- ✗ 1. रॉबर्ट
 - ✓ 2. गुंजन
 - ✗ 3. मोनिश
 - ✗ 4. अनिल

Question ID : 9895802409

Chosen Option : 2

Q.1 यदि $D = 4$ और $G = 7$, तब $GARDEN =$ कितना होगा?

- Ans
- ✗ 1. 47
 - ✗ 2. 50

✗ 3. 40

✓ 4. 49

Question ID : 9895802405
Chosen Option : 4

Q.1
1 निम्नलिखित में से असंगत युग्म को पहचानें।

- Ans
- ✗ 1. मिश्र : कैरो
 - ✗ 2. इटली : रोम
 - ✓ 3. इराक : दीनार
 - ✗ 4. ग्रीस : एथेंस

Question ID : 9895802402
Chosen Option : 1

Q.1
2 नीचे दिए गए कथनों के बाद दो निष्कर्ष I और II दिए गए हैं। यह मानते हुए कि कथनों में दी गई जानकारी सत्य है, भले ही वह सर्वज्ञात तथ्यों से भिन्न प्रतीत होती हो, यह निर्णय करें कि कौन सा / से निष्कर्ष तार्किक और निश्चित रूप से कथन में दी गई जानकारी का अनुसरण करता है / करते हैं।

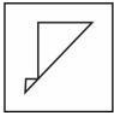
कथन:
कुछ गुड़िया फूल हैं।
कोई भी पेड़ गुड़िया नहीं है।

निष्कर्ष:
I. कोई गुड़िया पेड़ नहीं है।
II कुछ फूल पेड़ हैं।

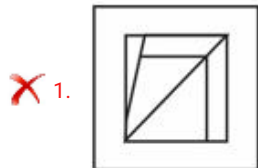
- Ans
- ✗ 1. केवल निष्कर्ष II अनुसरण करता है।
 - ✗ 2. दोनों निष्कर्ष I और II अनुसरण करते हैं।
 - ✗ 3. न तो निष्कर्ष I और ना ही निष्कर्ष II अनुसरण करता है।
 - ✓ 4. केवल निष्कर्ष I अनुसरण करता है।

Question ID : 9895802411
Chosen Option : 3

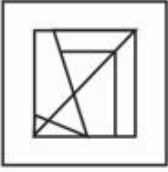
Q.1
3 उस विकल्प चित्र का चयन करें जिसमें प्रश्न चित्र छिपा / सन्निहित है। (घूर्णन की अनुमति नहीं है)



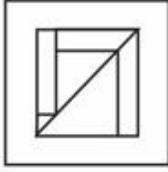
Ans



✗ 2.



✓ 3.



✗ 4.



Question ID : 9895802420
Chosen Option : 3

Q.1 एक मंजिल पर छह कार्यालय क्रमशः A, B, C, D, E और F को आवंटित किया जाता है। ये कार्यालय दो कतारों में हैं, एक कतार का रुख उत्तर की ओर, तथा दूसरी कतार का रुख दक्षिण की ओर है। B को उत्तर-मुखी कार्यालय मिला जो कि D के बगल में नहीं है। D और F को तिरछे रूप से आमने-सामने कार्यालय मिले। C, जिसका कार्यालय F के बगल में है, को दक्षिण-मुखी कार्यालय मिला, और E को उत्तर-मुखी कार्यालय मिला। निम्नलिखित में से किस संयोजन को दक्षिण-मुखी कार्यालय मिले?

- Ans
- ✗ 1. ABC
 - ✗ 2. FAE
 - ✓ 3. FCA
 - ✗ 4. BED

Question ID : 9895802408
Chosen Option : 3

Q.1 निम्नलिखित संख्या श्रृंखला में, दो संख्याओं को कोष्ठक के भीतर रखा गया है। श्रृंखला का ध्यानपूर्वक अध्ययन करें और श्रृंखला के संबंध में सही विकल्प का चयन करें।

4, 6, 10, (12), 16, (14), 22

- Ans
- ✓ 1. पहली कोष्ठक संख्या (बाएं से) सही है और दूसरी गलत है।
 - ✗ 2. दोनों कोष्ठक संख्याएँ गलत हैं।
 - ✗ 3. पहली कोष्ठक संख्या (बाएं से) गलत है और दूसरी सही है।
 - ✗ 4. दोनों कोष्ठक संख्याएँ सही हैं।

Question ID : 9895802417
Chosen Option : 1

Q.1 निम्नलिखित श्रृंखला में अगली संख्या का चयन करें।

1, 3, 5, 11, 21, 43, 85, 171, _____

Ans

1. 342
 2. 354
 3. 247
 4. 341

Question ID : 9895802412
Chosen Option : 4

Q.1
7 यदि CHILDREN को कूट भाषा में LIHCNERD लिखा जाता है, तो MOVEMENT को कूट भाषा में कैसे लिखेंगे?

- Ans 1. EVOMTNEM
 2. EVOMTMEN
 3. EVOMMENT
 4. TNEMEVOM

Question ID : 9895802406
Chosen Option : 1

Q.1
8 निम्नलिखित श्रृंखला में आगे आने वाले अक्षर का चयन करें।

O, R, U, X, A, _____

- Ans 1. E
 2. C
 3. D
 4. B

Question ID : 9895802399
Chosen Option : 3

Q.1
9 दिए गए कथनों और निष्कर्षों को ध्यानपूर्वक पढ़ें और बताएँ कि कौन सा निष्कर्ष तार्किक रूप से कथनों का अनुसरण करता है।

कथन:

जापान में काम करने वाले सभी वैज्ञानिक प्रतिभाशाली हैं।
जापान में कुछ चीनी वैज्ञानिक काम कर रहे हैं।

निष्कर्ष:

- I. कोई भी चीनी वैज्ञानिक प्रतिभाशाली नहीं है।
II. कुछ प्रतिभाशाली चीनी वैज्ञानिक जापान में काम कर रहे हैं।
III. सभी प्रतिभाशाली वैज्ञानिक जापानी हैं।
IV. कुछ चीनी वैज्ञानिक प्रतिभाशाली हैं।

- Ans 1. केवल निष्कर्ष II अनुसरण करता है।
 2. केवल निष्कर्ष I अनुसरण करता है।
 3. केवल निष्कर्ष III और IV अनुसरण करते हैं।
 4. केवल निष्कर्ष II और IV अनुसरण करते हैं।

Question ID : 9895802410

Chosen Option : 4

Q.2 उस विकल्प का चयन करें जो तीसरी संख्या से उसी प्रकार संबंधित है जिस प्रकार दूसरी संख्या पहली संख्या से संबंधित है।

11 : 169 :: 18 : _____

- Ans
- 1. 361
 - 2. 400
 - 3. 256
 - 4. 396

Question ID : 9895802414

Chosen Option : 2

Q.2 उस विकल्प का चयन करें जो तीसरे पद से उसी प्रकार संबंधित है, जिस प्रकार दूसरा पद पहले पद से संबंधित है।

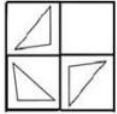
बैल : गाय :: शेर : _____

- Ans
- 1. पशुशावक
 - 2. शेरनी
 - 3. हिरणी
 - 4. घोड़ी

Question ID : 9895802404

Chosen Option : 2

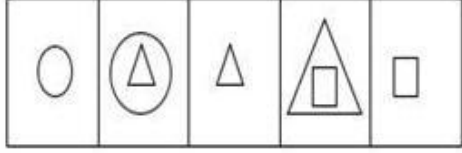
Q.2 उस विकल्प आकृति का चयन करें, जिसे प्रश्न की गयी आकृति के रिक्त स्थान में रखने पर आकृति पूर्ण हो जाएगी।



- Ans
- 1.
 - 2.
 - 3.
 - 4.

Question ID : 9895802419
Chosen Option : 3

Q.2 निम्नलिखित श्रृंखला में आगे आने वाली आकृति का चयन करें।



Ans

- ✗ 1.
- ✓ 2.
- ✗ 3.
- ✗ 4.

Question ID : 9895802418
Chosen Option : 2

Q.2 एक वर्गाकार पारदर्शी कागज एक पैटर्न के साथ दिया गया है। चार विकल्पों में से उस विकल्प का चयन करें, जो पारदर्शी कागज को बिंदु से बनाई गई रेखा पर मोड़ने से बनेगा।



Ans

- ✗ 1.
- ✓ 2.
- ✗ 3.
- ✗ 4.

Question ID : 9895802422
Chosen Option : 2

Q.2
5 निम्नलिखित में से असंगत को पहचानें।

- Ans
- 1. DCBA
 - 2. ZYXW
 - 3. LKJI
 - 4. QRSP

Question ID : 9895802401
Chosen Option : 4

Q.2
6 मानव शरीर की सबसे लंबी हड्डी कौन सी है?

- Ans
- 1. रेडियस
 - 2. अल्ना
 - 3. टिबिया
 - 4. फीमर

Question ID : 9895802967
Chosen Option : 4

Q.2
7 नॉमिनल जीडीपी के आधार पर, भारत 2018 में विश्व की _____ सबसे बड़ी अर्थव्यवस्था है।

- Ans
- 1. तीसरी
 - 2. दसवीं
 - 3. पांचवी
 - 4. सातवी

Question ID : 9895802959
Chosen Option : 1

Q.2
8 सोवियत संघ वर्ष _____ में टूटा था।

- Ans
- 1. 1880
 - 2. 1900
 - 3. 2000
 - 4. 1991

Question ID : 9895802963
Chosen Option : 1

Q.2
9 नर्मदा नदी मध्यप्रदेश में _____ से निकलती है।

- Ans
- 1. अरावली की पहाड़ियों
 - 2. अमरकंटक की पहाड़ियों

3. नीलगिरी की पहाड़ियों

4. सतपुड़ा पर्वतश्रेणी

Question ID : 9895802972
Chosen Option : 2

Q.3
0 बैस्टिल जेल पर जनता के हमले कौन सी घटना को जन्म दिया?

Ans 1. फ्रांस की क्रांति

2. सोवियत संघ का विघटन

3. रूसी क्रांति

4. ज़ार के पतन

Question ID : 9895802973
Chosen Option : 4

Q.3
1 पत्तियों में मौजूद हरा रंग किस नाम से जाना जाता है?

Ans 1. क्लोरोफिल

2. टिस्सू

3. जाइलम

4. फ्लोएम

Question ID : 9895802966
Chosen Option : 1

Q.3
2 _____ भारतीय अर्थव्यवस्था का प्राथमिक क्षेत्र है।

Ans 1. बैंकिंग

2. न्यायतंत्र

3. कृषि

4. सूचना और प्रौद्योगिकी

Question ID : 9895802960
Chosen Option : 3

Q.3
3 _____ भारत का एक प्रमुख लौह अयस्क क्षेत्र है।

Ans 1. गुजरात-राजस्थान क्षेत्र

2. तामिलनाडु-छत्तीसगढ़ क्षेत्र

3. उत्तरप्रदेश-बिहार क्षेत्र

✓ 4. ओडिशा-झारखंड क्षेत्र

Question ID : 9895802971
Chosen Option : 4

Q.3
4 _____ को 'लाईट ऑफ एशिया (एशिया की ज्योती)' के रूप में भी जाना जाता है।

- Ans
- ✗ 1. रूमी
 - ✓ 2. बुद्ध
 - ✗ 3. गांधी
 - ✗ 4. स्वामी विवेकानंद

Question ID : 9895802956
Chosen Option : 2

Q.3
5 तमिलनाडु की प्रख्यात शास्त्रीय नृत्य शैली कौन सी है?

- Ans
- ✓ 1. भरतनाट्यम
 - ✗ 2. कुचीपुडु
 - ✗ 3. कथक
 - ✗ 4. मोहिनीअट्टम

Question ID : 9895802952
Chosen Option : 1

Q.3
6 भारत देश का सबसे छोटा राज्य कौन सा है?

- Ans
- ✗ 1. पंजाब
 - ✓ 2. गोआ
 - ✗ 3. सिक्किम
 - ✗ 4. त्रिपुरा

Question ID : 9895802970
Chosen Option : 2

Q.3
7 ओलंपिक में रजत पदक जीतने वाली पहली भारतीय महिला कौन हैं?

- Ans
- ✓ 1. पी.वी. सिंधु
 - ✗ 2. तन्वी लाड
 - ✗ 3. अरुंधति पंतावने
 - ✗ 4. सायना नेहवाल

Question ID : 9895802954
Chosen Option : 1

Q.3 निम्नलिखित में से कौन से स्थल पर 1920 में भारतीय राष्ट्रीय कांग्रेस की बैठक हुई?

- Ans
- 1. थिरुवनंतपुरम
 - 2. मुंबई
 - 3. नागपुर
 - 4. त्रिपुरा

Question ID : 9895802974
Chosen Option : 3

Q.3 श्रीलंका में गृहयुद्ध कब समाप्त हुआ?

- Ans
- 1. 2001
 - 2. 1909
 - 3. 2009
 - 4. 1800

Question ID : 9895802964
Chosen Option : 1

Q.4 जिन जेक्स एक प्रसिद्ध _____ था।

- Ans
- 1. चित्रकार
 - 2. चिन्तक
 - 3. सम्राट
 - 4. चिकित्सक

Question ID : 9895802975
Chosen Option : 2

Q.4 लावणी कौन से राज्य का लोकनृत्य प्रकार है?

- Ans
- 1. बिहार
 - 2. महाराष्ट्र
 - 3. गुजरात
 - 4. राजस्थान

Question ID : 9895802953
Chosen Option : 2

Q.4 _____ एक पक्षी है, जो शांति का प्रतीक है।

- Ans
- 1. कबूतर

- 2. कौआ
- 3. मोर
- 4. उल्लू

Question ID : 9895802957
Chosen Option : 3

Q.4
3 निम्न में से कौन सा अंतःस्रावी तंत्र का हिस्सा नहीं है?

- Ans
- 1. लार ग्रंथि
 - 2. एड्रीनल ग्रंथि
 - 3. थाइमस
 - 4. पीनियल ग्रंथि

Question ID : 9895802969
Chosen Option : 3

Q.4
4 डीएनए का पूर्ण रूप क्या है?

- Ans
- 1. डिऑक्सीन्यूक्लिक एसिड
 - 2. डिऑक्सीराइबोन्यूक्लिक एसिड
 - 3. डिऑक्सीराइबन्यूट्रल एसिड
 - 4. डेल्टान्यूक्लिक एसिड

Question ID : 9895802968
Chosen Option : 2

Q.4
5 आर्किटेक्चर की जड़ने की तकनीक, पिएट्रा इयूरा निम्नलिखित में से किस स्मारक में पायी जाती है?

- Ans
- 1. ताजमहल
 - 2. चार मीनार
 - 3. गेटवे ऑफ इंडिया
 - 4. इंडिया गेट

Question ID : 9895802976
Chosen Option : 2

Q.4
6 नमक का रासायनिक नाम क्या है?

- Ans
- 1. सोडियम कार्बोनेट
 - 2. हाइड्रोजन क्लोराइड
 - 3. सोडियम हाइड्रोजन कार्बोनेट

✓ 4. सोडियम क्लोराइड

Question ID : 9895802965
Chosen Option : 4

Q.4
7 जीएसटी का पूरा अर्थ क्या होता है?

- Ans
- ✗ 1. ग्रोथ एंड सर्विस टैक्स
 - ✗ 2. ग्रोथ एंड सेल टैक्स
 - ✓ 3. गुड्स एंड सर्विस टैक्स
 - ✗ 4. गुड्स एंड सेल्स टैक्स

Question ID : 9895802961
Chosen Option : 3

Q.4
8 _____ इंग्लिश चैनल तैरकर पार करने वाली पहली भारतीय महिला कौन हैं।

- Ans
- ✗ 1. सानिया मिर्जा
 - ✗ 2. शिखा टंडन
 - ✗ 3. शिवानी कटारिया
 - ✓ 4. आरती साहा

Question ID : 9895802955
Chosen Option : 2

Q.4
9 पुस्तक 'इंडिया 2020' _____ द्वारा लिखी गई है।

- Ans
- ✓ 1. डॉ. एपीजे अब्दुल कलाम
 - ✗ 2. प्रसून जोशी
 - ✗ 3. राम नाथ कोविंद
 - ✗ 4. प्रणब मुखर्जी

Question ID : 9895802958
Chosen Option : 4

Q.5
0 भारतीय जनतंत्र के संदर्भ में निम्नलिखित में से कौन सा कथन सही है?

- Ans
- ✓ 1. लोगों को अपने प्रतिनिधिओं को चुनने की अनुमति देता है।
 - ✗ 2. वित्तीय आपातकाल के किस्सों में लोगों को देश पर कब्जा कर लेने की अधिकार देता है।
 - ✗ 3. सेना को देश पर शासन करने की अनुमति देता है।

4.

लोगों को तीर्थ यात्रा के लिए कर भुगतान का आदेश देता है।

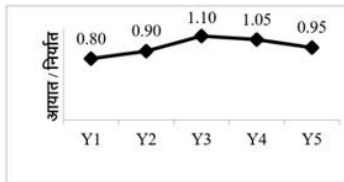
Question ID : 9895802962
Chosen Option : 1

Q.5 एक थैले में ₹1, ₹2 तथा ₹5 के मूल्य वर्ग के रूप में ₹420 हैं। ₹1, ₹2 तथा ₹5 के सिक्कों की संख्या 8 : 1 : 5 के अनुपात में हैं। थैले में ₹5 के कितने सिक्के हैं?

- Ans
- 1. 48
 - 2. 24
 - 3. 60
 - 4. 12

Question ID : 9895804064
Chosen Option : 2

Q.5 नीचे दिया गया रेखा चित्र 5 लगातार वर्षों Y_1 , Y_2 , Y_3 , Y_4 तथा Y_5 के लिए एक देश के लिए आयात से निर्यात के अनुपात को दर्शाता है।



यदि वर्ष Y_3 के लिए निर्यात ₹35000 करोड़ है, तो वर्ष Y_3 के लिए आयात (करोड़ में) क्या होगा?

- Ans
- 1. ₹38500
 - 2. ₹41500
 - 3. ₹35500
 - 4. ₹43500

Question ID : 9895804077
Chosen Option : 2

Q.5 यदि P, Q से 40% कम है, तो Q, P से कितना प्रतिशत अधिक है?

- Ans
- 1. 40%
 - 2. 33.33%
 - 3. 60%
 - 4. 66.66%

Question ID : 9895804061
Chosen Option : 3

Q.5 यदि सोनू 20 मी./से. की गति से एक कार चला रहा है, तो सोनू 936 कि.मी. की दूरी को कितने समय में तय करेगा?

- Ans
- 1. 13 घंटे

2. 18 घंटे
 3. 21 घंटे
 4. 46.8 घंटे

Question ID : 9895804071
Chosen Option : 1

Q.5 एक वस्तु को 15% की छूट देने के पश्चात् ₹4777 में बेचा गया है। वस्तु का अंकित मूल्य क्या है?

- Ans 1. ₹5348
 2. ₹5525
 3. ₹5620
 4. ₹5494

Question ID : 9895804059
Chosen Option : 3

Q.5 दो वस्तुओं का मूल्य क्रमशः 3 : 2 के अनुपात में है। पहली वस्तु का मूल्य 40% से बढ़ाया जाता है तथा दूसरी वस्तु का मूल्य $x\%$ से घटाया जाता है। यदि दोनों वस्तुओं के मूल्य का नया अनुपात क्रमशः 7 : 3 है, तो x का मान क्या है?

- Ans 1. 20
 2. 15
 3. 30
 4. 10

Question ID : 9895804066
Chosen Option : 1

Q.5 $u : v = 4 : 7$ है तथा $v : w = 9 : 7$ है। यदि $u = 72$ है, तो w का मान क्या है?

- Ans 1. 49
 2. 98
 3. 77
 4. 63

Question ID : 9895804065
Chosen Option : 2

Q.5 एक राशि साधारण ब्याज पर 5 वर्षों में ₹10650 तथा 6 वर्षों में ₹11076 हो जाती है। राशि क्या है?

- Ans 1. ₹8800
 2. ₹8946
 3. ₹8740
 4. ₹8520

Question ID : 9895804067
Chosen Option : 4

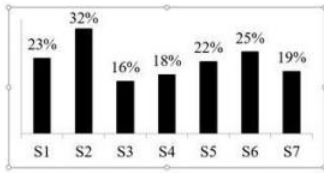
Q.5 मनीष ने ₹225 प्रति किताब की दर से किताबें खरीदी तथा ₹162 प्रति किताब की दर से उन्हें बेच दिया। 7 किताबें बेचने पर हानि क्या होगी?

- Ans
- 1. ₹28
 - 2. ₹441
 - 3. ₹315
 - 4. ₹63

Question ID : 9895804063

Chosen Option : 2

Q.6 नीचे दिए गए बार चार्ट में 7 विभिन्न मिठाईयाँ S1, S2, S3, S4, S5, S6 तथा S7 में उपयोग हुई चीनी की मात्रा मात्रा को मिठाई के कुल वजन के प्रतिशत के रूप में दर्शाया गया है।



मिठाई S4 का कुल वजन 150 कि.ग्रा. है। मिठाई S4 में प्रयुक्त चीनी की मात्रा कितनी है?

- Ans
- 1. 25 कि.ग्रा.
 - 2. 31 कि.ग्रा.
 - 3. 35 कि.ग्रा.
 - 4. 27 कि.ग्रा.

Question ID : 9895804078

Chosen Option : 4

Q.6 यदि पाँच निरीक्षणों a_1, a_2, a_3, a_4 तथा a_5 का औसत N है, तो पाँच नए निरीक्षणों $a_1 - 100, a_2 - 100, a_3 - 100, a_4 - 100$ तथा $a_5 - 100$ का औसत क्या होगा?

- Ans
- 1. $N - 40$
 - 2. $N - 20$
 - 3. $N - 150$
 - 4. $N - 100$

Question ID : 9895804058

Chosen Option : 2

Q.6 A अकेला एक कार्य को 6 दिन में पूरा कर सकता है तथा B अकेला समान कार्य को 8 दिन में पूरा कर सकता है। A तथा B दोनों मिलकर समान कार्य को कितने दिन में पूरा कर सकते हैं?

- Ans
- 1. 24/7 दिन
 - 2. 48/13 दिन
 - 3. 26/7 दिन
 - 4. 35/13 दिन

Question ID : 9895804069

Chosen Option : 1

Q.6 $5\frac{1}{2} - \left[3\frac{1}{4} + 6 - 4 \div 2\right]$ का मान क्या है?

- Ans
- ✓ 1. $-\frac{7}{4}$
- ✗ 2. $\frac{7}{4}$
- ✗ 3. $-\frac{5}{4}$
- ✗ 4. $\frac{5}{4}$

Question ID : 9895804055

Chosen Option : 1

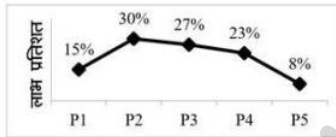
Q.6 राजेश 25 कि.मी./घंटा की गति से अपने दफ्तर जाता है तथा 20 कि.मी./घंटा की गति से अपने घर वापस आता है।
4 यदि वह कुल 9 घंटे लेता है, तो उसके दफ्तर तथा घर के मध्य दूरी क्या है? www.exammix.com

- Ans
- ✓ 1. 100 कि.मी.
- ✗ 2. 90 कि.मी.
- ✗ 3. 140 कि.मी.
- ✗ 4. 120 कि.मी.

Question ID : 9895804072

Chosen Option : 4

Q.6 नीचे दिया गया रेखा चित्र एक कंपनी के 5 विभिन्न उत्पादों P1, P2, P3, P4 तथा P5 पर लाभ प्रतिशत को दर्शाता है।
5



उत्पाद P3 का राजस्व ₹38100 है। उत्पाद P3 का व्यय क्या है?

- Ans
- ✗ 1. ₹32000
- ✓ 2. ₹30000
- ✗ 3. ₹29000
- ✗ 4. ₹35000

Question ID : 9895804076

Chosen Option : 4

Q.6 अनिल, दीपक तथा दिनेश मिलकर एक कार्य को 35 दिन में पूरा कर सकते हैं। अनिल तथा दिनेश मिलकर समान
6 कार्य को 60 दिन में पूरा कर सकते हैं। दीपक अकेला समान कार्य को कितने दिन में पूरा कर सकता है?

- Ans
- ✓ 1. 84 दिन
- ✗ 2. 105 दिन
- ✗ 3. 96 दिन

✗ 4. 110 दिन

Question ID : 9895804070
Chosen Option : 2

Q.6 एक राशि चक्रवृद्धि ब्याज पर 3 वर्षों में स्वयं का 5 गुना हो जाती है (ब्याज का संयोजन वार्षिक किया गया है)।
7 कितने वर्षों में राशि स्वयं का 125 गुना हो जाएगी?

- Ans
- ✓ 1. 9
 - ✗ 2. 8
 - ✗ 3. 12
 - ✗ 4. 6

Question ID : 9895804068
Chosen Option : 1

Q.6 एक गेंदबाज ने लगातार 15 मैचों में 0, 3, 2, 1, 5, 3, 4, 5, 5, 2, 2, 0, 0, 1 और 2 विकेट लिए हैं।
8 दिए गए आंकड़ों का बहुलक क्या है?

- Ans
- ✓ 1. 2
 - ✗ 2. 3
 - ✗ 3. 5
 - ✗ 4. 0

Question ID : 9895804060
Chosen Option : 3

Q.6 $2^3 \times 3^5$ तथा $3^3 \times 5^2$ का महत्तम समापवर्तक क्या है?

- Ans
- ✗ 1. $2^1 \times 3^3 \times 5^1$
 - ✗ 2. $3^5 \times 5^2$
 - ✗ 3. $2^3 \times 3^5 \times 5^2$
 - ✓ 4. 3^3

Question ID : 9895804054
Chosen Option : 2

Q.7 यदि एक वस्तु का क्रय मूल्य ₹220 है तथा लाभ 20% है, तो वस्तु का विक्रय मूल्य क्या होगा?

- Ans
- ✗ 1. ₹256
 - ✗ 2. ₹216
 - ✓ 3. ₹264
 - ✗ 4. ₹176

Question ID : 9895804062
Chosen Option : 3

Q.7
1

$\left[10\frac{1}{3} \div \frac{5}{3} \text{ का } (10 + 14 \div 3 - 1)\right]$ का मान क्या है?

Ans

1. $\frac{33}{50}$

2. $\frac{93}{205}$

3. $\frac{29}{88}$

4. $\frac{31}{85}$

Question ID : 9895804056

Chosen Option : 2

Q.7 एक कमरे की लंबाई, चौड़ाई तथा ऊँचाई 21 मीटर, 12 मीटर तथा 16 मीटर है। उस कमरे में रखी जाने वाली सबसे बड़ी छड़ की लंबाई क्या होगी?

Ans

1. 25 मीटर

2. 32 मीटर

3. 29 मीटर

4. 31 मीटर

Question ID : 9895804074

Chosen Option : 3

Q.7 अध्यापक के वजन को शामिल करने पर 22 छात्रों के एक समूह का औसत वजन 1 कि.ग्रा. से बढ़ जाता है। यदि 22 छात्रों के समूह का आंशिक औसत वजन 31 कि.ग्रा. था, तो अध्यापक का वजन क्या है?

Ans

1. 54 कि.ग्रा.

2. 53 कि.ग्रा.

3. 48 कि.ग्रा.

4. 57 कि.ग्रा.

Question ID : 9895804057

Chosen Option : 3

Q.7 एक शंकु की ऊँचाई 16 से.मी. है तथा उसके आधार की त्रिज्या 30 से.मी. है। यदि इसे रंगने की दर ₹14/से.मी.² है, तो शंकु को बाहर से रंगने में कुल खर्चा कितना होगा?

Ans

1. ₹36820

2. ₹42220

3. ₹46540

4. ₹44880

Question ID : 9895804075

Chosen Option : 3

Q.7

5 यदि एक वर्ग के विकर्ण की लंबाई $10\sqrt{2}$ से.मी. है, तो वर्ग का क्षेत्रफल क्या होगा?

- Ans
- 1. $100\sqrt{2}$ से.मी.²
 - 2. 100 से.मी.²
 - 3. 200 से.मी.²
 - 4. 50 से.मी.²

Question ID : 9895804073
Chosen Option : 3

Section : English Language

Q.1 Select the antonym of the given word.

EMANCIPATION

- Ans
- 1. riddance
 - 2. freedom
 - 3. liberty
 - 4. bondage

Question ID : 9895803559
Chosen Option : --

Q.2 Select the antonym of the given word.

AFFLICTION

- Ans
- 1. pleasure
 - 2. agony
 - 3. discomfort
 - 4. anguish

Question ID : 9895803560
Chosen Option : --

Q.3 Select the most appropriate word to fill in the blank.

1950 is _____ year in which India became a republic.

- Ans
- 1. a
 - 2. an
 - 3. the
 - 4. one

Question ID : 9895803548
Chosen Option : --

Q.4 Select the option that means the same as the given idiom.

To jump on the bandwagon

- Ans
- 1. To take a calculated risk
 - 2. To follow popular trends
 - 3. To fall into misfortune
 - 4. To run after the unachievable

Question ID : 9895803561

Chosen Option : --

Q.5 Select the most appropriate word to fill in the blank.

The judge found him _____ of murder.

- Ans
- 1. criminal
 - 2. honest
 - 3. innocent
 - 4. guilty

Question ID : 9895803550

Chosen Option : --

Q.6 From the given options, identify the segment in the sentence which contains the grammatical error.

He will not be able to attend the school function tomorrow, will you?

- Ans
- 1. to attend
 - 2. will you?
 - 3. the school function
 - 4. will not be

Question ID : 9895803545

Chosen Option : --

Q.7 Select the correctly spelt word.

- Ans
- 1. Businnes
 - 2. Bussiness
 - 3. Buisness
 - 4. Business

Question ID : 9895803566

Chosen Option : --

Q.8 Select the most appropriate option to substitute the underlined segment in the given sentence. If there is no need to substitute it, select No Improvement.

Mumbai has a lot of heritage structures which badly need restoration.

- Ans
- 1. lot of
 - 2. No improvement
 - 3. many of
 - 4. few of

Question ID : 9895803567

Chosen Option : --

Q.9 Select the most appropriate option to substitute the underlined segment in the given sentence. If there is no need to substitute it, select No Improvement.

A young taxi driver has claimed that a monster attacked him while he drove along a lonely road.

- Ans
- 1. while he is driving
 - 2. as long as he drove
 - 3. while he was driving
 - 4. No improvement

Question ID : 9895803568

Chosen Option : --

Q.1
0 Select the synonym of the given word.

MAGNIFICENT

- Ans
- 1. expensive
 - 2. grand
 - 3. huge
 - 4. modest

Question ID : 9895803558

Chosen Option : --

Q.1
1 Select the synonym of the given word.

SUITABLE

- Ans
- 1. ideal
 - 2. appropriate
 - 3. awkward
 - 4. friendly

Question ID : 9895803557

Chosen Option : --

Q.1
2 Select the most appropriate word to fill in the blank.

Shall we _____ his invitation to dinner.

- Ans
- 1. except
 - 2. accept
 - 3. expect
 - 4. agree

Question ID : 9895803549
Chosen Option : --

Q.1
3 Select the option that means the same as the following phrase.

One who is outgoing

- Ans
- 1. vagabond
 - 2. explorer
 - 3. extrovert
 - 4. introvert

Question ID : 9895803564
Chosen Option : --

Comprehension:

In the following passage some words have been deleted. Fill in the blanks with the help of the alternatives given.

Generations of women in the southern Indian state of Tamil Nadu have been diving to _____ (1) seaweed to help support their families _____ (2) women head to the sea on _____ (3) unique quest.

Clad in traditional saris and goggles, they _____ (4) into the ocean to collect coral and seaweed _____ (5) grow on underwater rocks. Seaweed is used in food and to make various drugs and chemicals.

SubQuestion No : 14

Q.1
4 Select the most appropriate option that will fill in the blank number 1.

- Ans
- 1. build
 - 2. collect
 - 3. assemble
 - 4. grow

Question ID : 9895803552
Chosen Option : --

Comprehension:

In the following passage some words have been deleted. Fill in the blanks with the help of the alternatives given.

Generations of women in the southern Indian state of Tamil Nadu have been diving to _____ (1) seaweed to help support their families _____ (2) women head to the sea on _____ (3) unique quest.

Clad in traditional saris and goggles, they _____ (4) into the ocean to collect coral and seaweed _____ (5) grow on underwater rocks. Seaweed is used in food and to make various drugs and chemicals.

SubQuestion No : 15

Q.1
5 Select the most appropriate option that will fill in the blank number 2.

- Ans
- 1. This
 - 2. Those
 - 3. These
 - 4. That

Question ID : 9895803553
Chosen Option : --

Comprehension:

In the following passage some words have been deleted. Fill in the blanks with the help of the alternatives given.

Generations of women in the southern Indian state of Tamil Nadu have been diving to _____ (1) seaweed to help support their families _____ (2) women head to the sea on _____ (3) unique quest.

Clad in traditional saris and goggles, they _____ (4) into the ocean to collect coral and seaweed _____ (5) grow on underwater rocks. Seaweed is used in food and to make various drugs and chemicals.

SubQuestion No : 16

Q.1
6 Select the most appropriate option that will fill in the blank number 3.

- Ans
- 1. an
 - 2. a
 - 3. the
 - 4. any

Question ID : 9895803554
Chosen Option : --

Comprehension:

In the following passage some words have been deleted. Fill in the blanks with the help of the alternatives given.

Generations of women in the southern Indian state of Tamil Nadu have been diving to _____ (1) seaweed to help support their families _____ (2) women head to the sea on _____ (3) unique quest.

Clad in traditional saris and goggles, they _____ (4) into the ocean to collect coral and seaweed _____ (5) grow on underwater rocks. Seaweed is used in food and to make various drugs and chemicals.

SubQuestion No : 17

Q.1
7 Select the most appropriate option that will fill in the blank number 4.

- Ans
- 1. dive
 - 2. fall
 - 3. float
 - 4. swim

Question ID : 9895803555
Chosen Option : --

Comprehension:

In the following passage some words have been deleted. Fill in the blanks with the help of the alternatives given.

Generations of women in the southern Indian state of Tamil Nadu have been diving to _____ (1) seaweed to help support their families _____ (2) women head to the sea on _____ (3) unique quest.

Clad in traditional saris and goggles, they _____ (4) into the ocean to collect coral and seaweed _____ (5) grow on underwater rocks. Seaweed is used in food and to make various drugs and chemicals.

SubQuestion No : 18

Q.1
8 Select the most appropriate option that will fill in the blank number 5.

- Ans
- 1. which
 - 2. whom
 - 3. who
 - 4. what

Question ID : 9895803556
Chosen Option : --

Q.1
9 Select the most appropriate option to substitute the underlined segment in the given sentence. If there is no need to substitute it, select No Improvement.

The torch fall from his trembling hand and he ran wildly towards the school building.

- Ans
- 1. falling from his trembling hand

- 2. fell from his trembling hand
- 3. felled from his trembling hand
- 4. No improvement

Question ID : 9895803569
Chosen Option : --

Q.2
0 Select the correctly spelt word.

- Ans
- 1. Reseipt
 - 2. Recept
 - 3. Receipt
 - 4. Receit

Question ID : 9895803565
Chosen Option : --

Q.2
1 Select the word which means the same as the group of words given.

One who talks a lot

- Ans
- 1. glutton
 - 2. taciturn
 - 3. gullible
 - 4. loquacious

Question ID : 9895803563
Chosen Option : --

Q.2
2 From the given options, identify the segment in the sentence which contains the grammatical error.

Many students thought that this year's question paper was very tough as compared to last year.

- Ans
- 1. compared to last year
 - 2. was very tough
 - 3. that this year's
 - 4. Many students thought

Question ID : 9895803544
Chosen Option : --

Q.2
3 From the given options, identify the segment in the sentence which contains the grammatical error.

The TV anchor insisted on me to participate in the debate.

- Ans
- 1. insisted on me
 - 2. The TV anchor
 - 3. in the debate

4. to participate

Question ID : 9895803546
Chosen Option : --

Q.2
4 Select the most appropriate word to fill in the blank.

Let's go out now. It isn't _____ anymore.

- Ans
- 1. raining
 - 2. rain
 - 3. rains
 - 4. rained

Question ID : 9895803547
Chosen Option : --

Q.2
5 Select the option that means the same as the given idiom.

To pay through the nose

- Ans
- 1. To pay willingly
 - 2. To pay easily
 - 3. To pay excessively
 - 4. To pay reluctantly

Question ID : 9895803562
Chosen Option : --

Section : Hindi Language

Q.1 दिए गए वाक्य का वह भाग ज्ञात करें जिसमें कोई त्रुटि है।

हम जानते हैं कि परिश्रम का फल सदा ही मीठा होती है।

- Ans
- 1. परिश्रम का फल
 - 2. मीठा होती है।
 - 3. सदा ही
 - 4. हम जानते हैं कि

Question ID : 9895803416
Chosen Option : 2

Q.2 सही वर्तनी वाले शब्द का चयन करें।

- Ans
- 1. शौकाकुल

✓ 2. शोकाकुल

✗ 3. शोककुल

✗ 4. शौककुल

Question ID : 9895803439
Chosen Option : 2

Q.3 सही वर्तनी वाले शब्द का चयन करें।

Ans ✗ 1. मोखिक

✓ 2. मौखिक

✗ 3. मौकिख

✗ 4. मौखीक

Question ID : 9895803438
Chosen Option : 2

Q.4 रिक्त स्थान को भरने के लिए सबसे उपयुक्त शब्द का चयन करें।

बूढ़ा आदमी अपने _____ से दुःखी है।

Ans ✗ 1. प्रशंसा

✗ 2. बचपन

✓ 3. बुढ़ापे

✗ 4. जवानी

Question ID : 9895803422
Chosen Option : 3

Q.5 दिए गए शब्द का विलोम चुनें।

योग्य

Ans ✓ 1. अयोग्य

✗ 2. मूर्ख

✗ 3. सौभाग्य

✗ 4. सुयोग्य

Question ID : 9895803430
Chosen Option : 1

Q.6

दिए गए शब्द के पर्यायवाची शब्द का चयन करें।

अर्जुन

- Ans
- 1. जगदीश
 - 2. शमशीर
 - 3. धनंजय
 - 4. कोविंद

Question ID : 9895803432
Chosen Option : 3

Q.7 दिए गए वाक्य का वह भाग ज्ञात करें जिसमें कोई त्रुटि है।

मोहन ने रुपयों का प्रबन्ध अपनी पत्नी की गहने बेच कर किया।

- Ans
- 1. बेच कर किया
 - 2. अपनी पत्नी की गहने
 - 3. रुपयों का प्रबन्ध
 - 4. मोहन ने

Question ID : 9895803414
Chosen Option : 2

Q.8 निम्नलिखित में से उस विकल्प का चयन करें जो 'अंग-अंग ढीला होना' मुहावरे का अर्थ व्यक्त करता है।

- Ans
- 1. दुखी होना
 - 2. निराश होना
 - 3. अत्यधिक थक जाना
 - 4. हार जाना

Question ID : 9895803434
Chosen Option : 3

Q.9 दिये गये वाक्यांश के लिए एक शब्द चुनिए ।

जो जन्म से अंधा हो

- Ans
- 1. अंधभक्त
 - 2. कृपांध
 - 3. दुष्टांध
 - 4. जन्मांध

Question ID : 9895803436
Chosen Option : 4

Q.1
0 दिए गए वाक्य में रेखांकित खंड को प्रतिस्थापित करने के लिए सबसे उपयुक्त विकल्प का चयन करें।

शीला मेरी बहन है, वह बच्चों के साथ खेल रहा है।

- Ans
- 1. बच्चों के साथ खेल रहे हैं।
 - 2. बच्चों के साथ खेल रही है।
 - 3. बच्चों को साथ खेल रही है।
 - 4. बच्चों से साथ खेल रही है।

Question ID : 9895803419
Chosen Option : 2

Q.1
1 दिए गए वाक्य का वह भाग ज्ञात करें जिसमें कोई त्रुटि है।

आजकल तापमान में तेजी से परिवर्तन हो रही है।

- Ans
- 1. परिवर्तन हो रही है।
 - 2. तापमान में
 - 3. आजकल
 - 4. तेजी से

Question ID : 9895803415
Chosen Option : 1

Q.1
2 दिए गए शब्द के पर्यायवाची शब्द का चयन करें।

कुबेर

- Ans
- 1. यमराज
 - 2. महाराज
 - 3. यक्षराज
 - 4. गिरिराज

Question ID : 9895803433
Chosen Option : 4

Q.1
3 रिक्त स्थान को भरने के लिए सबसे उपयुक्त शब्द का चयन करें।

वसंत पंचमी के दिन देवी से _____ की जाती है।

- Ans
- 1. पूजा
 - 2. आवाहन
 - 3. प्रार्थना

✗ 4. प्रसन्नता

Question ID : 9895803423
Chosen Option : 3

Q.1 दिए गए वाक्य में रेखांकित खंड को प्रतिस्थापित करने के लिए सबसे उपयुक्त विकल्प का चयन करें।

कन्या की सुपात्रता का मापदंड केवल दहेज के स्वरूप से तय करना जाने लगा है।

- Ans
- ✗ 1. स्वरूप से तय करने जाने लगे हैं।
 - ✗ 2. स्वरूप से तय करने जाने लगे है।
 - ✗ 3. स्वरूप से तय हुआ जाने लगा है।
 - ✓ 4. स्वरूप से तय किया जाने लगा है।

Question ID : 9895803417
Chosen Option : 4

Q.1 रिक्त स्थान को भरने के लिए सबसे उपयुक्त शब्द का चयन करें।

मेरी बस _____ गई थी।

- Ans
- ✓ 1. छूट
 - ✗ 2. सो
 - ✗ 3. मर
 - ✗ 4. उड़

Question ID : 9895803421
Chosen Option : 1

Q.1 दिए गए वाक्य में रेखांकित खंड को प्रतिस्थापित करने के लिए सबसे उपयुक्त विकल्प का चयन करें।

गणतन्त्र दिवस की परेड में सैनिक कदम तालें कर रहे हैं।

- Ans
- ✓ 1. सैनिक कदम-ताल कर रहे हैं।
 - ✗ 2. सैनिक कदमों तालों कर रहा है।
 - ✗ 3. सैनिक कदमों-ताल कर रहे हैं।
 - ✗ 4. सैनिक कदम तालों कर रहा है।

Question ID : 9895803418
Chosen Option : 1

Q.1 रिक्त स्थान को भरने के लिए सबसे उपयुक्त शब्द का चयन करें।

आकाश में _____ चमक रहा है।

- Ans
- ✓ 1. तारा
 - ✗ 2. सोना

3. बादल

4. चाँदी

Question ID : 9895803420
Chosen Option : 1

Q.1 निम्नलिखित में से उस विकल्प का चयन करें जो 'अंधे के हाथ बटेर लगना' मुहावरे का अर्थ व्यक्त करता है।

Ans 1. बिना प्रयास के कीमती वस्तु मिल जाना

2. सफल होना

3. अयोग्य होना

4. प्रयास से कीमती वस्तु मिलना

Question ID : 9895803435
Chosen Option : 1

Q.1 दिए गए शब्द का विलोम चुनें।

यश

Ans 1. नीरस

2. नीरव

3. अपयश

4. सुयश

Question ID : 9895803431
Chosen Option : 3

Q.2 दिये गये वाक्यांश के लिए एक शब्द चुनिए ।

जो मोक्ष चाहता हो

Ans 1. मुमुक्षु

2. अमोक्षीय

3. मोक्षालु

4. मोक्षप्रिय

Question ID : 9895803437
Chosen Option : 1

Comprehension:

दिए गए अनुच्छेद में कुछ शब्द हटा दिए गए हैं। दिए गए विकल्पों की सहायता से रिक्त स्थान भरें। प्रत्येक संख्या के लिए सबसे उपयुक्त विकल्प का चयन करें।

आज अनेक भाषाओं में अनेक समाचार-पत्र बाजार में उपलब्ध हैं। मनुष्य की _____ (1) विशेषता है उसका _____ (2) होना। रात्रि में वह चैन की नींद सोकर प्रातः काल उठता है तो शीघ्र ही अपने आस-पास के वातावरण के बारे में जानने का _____ (3) करता है। चाय की _____ (4) के साथ देश - विदेश की खबरों को जानने के लिए वह _____ (5) का सहारा लेता है।

SubQuestion No : 21

Q.2
1 गद्यांश में संकेतित रिक्त स्थान (1) के लिए उपयुक्त शब्द होगा -

- Ans
- 1. आराम
 - 2. नींद
 - 3. व्यक्ति
 - 4. स्वभावगत

Question ID : 9895803425

Chosen Option : 4

Comprehension:

दिए गए अनुच्छेद में कुछ शब्द हटा दिए गए हैं। दिए गए विकल्पों की सहायता से रिक्त स्थान भरें। प्रत्येक संख्या के लिए सबसे उपयुक्त विकल्प का चयन करें।

आज अनेक भाषाओं में अनेक समाचार-पत्र बाजार में उपलब्ध हैं। मनुष्य की _____ (1) विशेषता है उसका _____ (2) होना। रात्रि में वह चैन की नींद सोकर प्रातः काल उठता है तो शीघ्र ही अपने आस-पास के वातावरण के बारे में जानने का _____ (3) करता है। चाय की _____ (4) के साथ देश - विदेश की खबरों को जानने के लिए वह _____ (5) का सहारा लेता है।

SubQuestion No : 22

Q.2
2 गद्यांश में संकेतित रिक्त स्थान (2) के लिए उपयुक्त शब्द होगा -

- Ans
- 1. जिज्ञासु
 - 2. संपादक
 - 3. बिक्री
 - 4. संकेत

Question ID : 9895803426

Chosen Option : 1

Comprehension:

दिए गए अनुच्छेद में कुछ शब्द हटा दिए गए हैं। दिए गए विकल्पों की सहायता से रिक्त स्थान भरें। प्रत्येक संख्या के लिए सबसे उपयुक्त विकल्प का चयन करें।

आज अनेक भाषाओं में अनेक समाचार-पत्र बाजार में उपलब्ध हैं। मनुष्य की _____ (1) विशेषता है उसका _____ (2) होना। रात्रि में वह चैन की नींद सोकर प्रातः काल उठता है तो शीघ्र ही अपने आस-पास के वातावरण के बारे में जानने का _____ (3) करता है। चाय की _____ (4) के साथ देश - विदेश की खबरों को जानने के लिए वह _____ (5) का सहारा लेता है।

SubQuestion No : 23

Q.2
3 गद्यांश में संकेतित रिक्त स्थान (3) के लिए उपयुक्त शब्द होगा -

- Ans
- 1. प्रयास
 - 2. अनुभव
 - 3. प्रतीक्षा
 - 4. खबर

Question ID : 9895803427
Chosen Option : 1

Comprehension:

दिए गए अनुच्छेद में कुछ शब्द हटा दिए गए हैं। दिए गए विकल्पों की सहायता से रिक्त स्थान भरें। प्रत्येक संख्या के लिए सबसे उपयुक्त विकल्प का चयन करें।

आज अनेक भाषाओं में अनेक समाचार-पत्र बाजार में उपलब्ध हैं। मनुष्य की _____ (1) विशेषता है उसका _____ (2) होना। रात्रि में वह चैन की नींद सोकर प्रातः काल उठता है तो शीघ्र ही अपने आस-पास के वातावरण के बारे में जानने का _____ (3) करता है। चाय की _____ (4) के साथ देश - विदेश की खबरों को जानने के लिए वह _____ (5) का सहारा लेता है।

SubQuestion No : 24

Q.2
4 गद्यांश में संकेतित रिक्त स्थान (4) के लिए उपयुक्त शब्द होगा -

- Ans
- 1. टुकड़ों
 - 2. कपड़ों
 - 3. बरतन
 - 4. चुस्कियों

Question ID : 9895803428
Chosen Option : 4

Comprehension:

दिए गए अनुच्छेद में कुछ शब्द हटा दिए गए हैं। दिए गए विकल्पों की सहायता से रिक्त स्थान भरें। प्रत्येक संख्या के लिए सबसे उपयुक्त विकल्प का चयन करें।

आज अनेक भाषाओं में अनेक समाचार-पत्र बाजार में उपलब्ध हैं। मनुष्य की _____ (1) विशेषता है उसका _____ (2) होना। रात्रि में वह चैन की नींद सोकर प्रातः काल उठता है तो शीघ्र ही अपने आस-पास के वातावरण के बारे में जानने का _____ (3) करता है। चाय की _____ (4) के साथ देश - विदेश की खबरों को जानने के लिए वह _____ (5) का सहारा लेता है।

SubQuestion No : 25

Q.2
5 गद्यांश में संकेतित रिक्त स्थान (5) के लिए उपयुक्त शब्द होगा -

- Ans
- 1. खेलों
 - 2. समाचार पत्र
 - 3. गानों
 - 4. फिल्मों

Question ID : 9895803429
Chosen Option : 2